

Time: 40 Minutes	Paper Math 2	Total Marks: 25
-------------------------	---------------------	------------------------

6th Month, 4th Week, 6th Day	Syllabus: Revision Test
------------------------------	--------------------------------

Q.1. Choose the correct option and fill in the blanks. (5)

درست جواب کا انتخاب کریں اور خالی جگہ پُر کریں۔





(i) Which shape has 3 sides and 3 vertices?


کون سی شکل کے 3 اضلاع اور 3 کونے ہیں۔


(a) Rectangle مستطیل	(b) Square مربع	(c) Triangle مثلث	(d) Circle دائرہ
----------------------	-----------------	-------------------	------------------

(ii) _____ is the shape of quarter circle.

کوارٹر سرکل کی شکل ہے۔

(a) 	(b) 	(c) 	(d) 
---	---	---	---

(iii)  is the shape of _____.

_____ کی شکل ہے۔ 

(a) Cylinder سلنڈر	(b) Cone کون	(c) Cube مکعب	(d) Sphere سفیر
--------------------	--------------	---------------	-----------------

(iv) How many curved lines a semi-circle has?

سی سرکل میں کتنی مڑی ہوئی لائیں ہیں؟

(a) 0	(b) 1	(c) 2	(d) 3
-------	-------	-------	-------


(v) How many sides a circle has?

سرکل کے کتنے اضلاع ہوتے ہیں؟

(a) 0	(b) 1	(c) 2	(d) 3
-------	-------	-------	-------

Q.2. Complete the following patterns and colour. (10)

درج ذیل نمونوں کو مکمل کریں اور رنگ کریں۔



Q.3. Write the name of each shape and its total number in the given drawing. (10)

Colour it.

دی گئی ڈرائنگ میں ہر شکل کا نام اور تعداد لکھیں اور اس میں رنگ کریں۔

Circle _____ 4 _____

